



تاریخ: \_\_\_\_\_

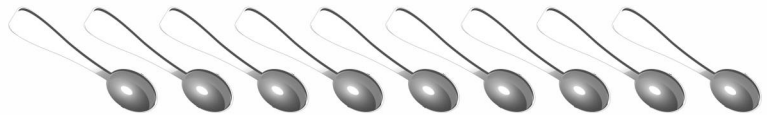


نام: \_\_\_\_\_

عددی گنتی کو ہندسی گنتی سے ملائیے۔





اشیاء کو گینے اور ہندی گنتی لکھیے۔





تاریخ: \_\_\_\_\_

نام: \_\_\_\_\_

ہندی گنتی کو لفظی گنتی سے ملائیے۔

پانچ \_\_\_\_\_

سات \_\_\_\_\_

نو \_\_\_\_\_

چھ \_\_\_\_\_

آٹھ \_\_\_\_\_

دس \_\_\_\_\_

چار \_\_\_\_\_

دو \_\_\_\_\_

ایک \_\_\_\_\_

تین \_\_\_\_\_






تاریخ: \_\_\_\_\_

نام: \_\_\_\_\_

اشیاء کو گنیے اور لفظی گنتی لکھیے۔



\_\_\_\_\_




\_\_\_\_\_




\_\_\_\_\_



\_\_\_\_\_



\_\_\_\_\_



\_\_\_\_\_



\_\_\_\_\_



\_\_\_\_\_



\_\_\_\_\_



\_\_\_\_\_



نام: \_\_\_\_\_ تاریخ: \_\_\_\_\_

لفظی گنتی (ایک تا دس) کے توڑ لکھیے۔

---

---

---

---

---

---

---

---

---

---

---

---





تاریخ: \_\_\_\_\_

نام: \_\_\_\_\_

عددی گنتی کے سامنے ہندی گنتی اور لفظی گنتی لکھیے۔

لفظی گنتی

ہندی گنتی

عددی گنتی

\_\_\_\_\_

\_\_\_\_\_



\_\_\_\_\_

\_\_\_\_\_



\_\_\_\_\_

\_\_\_\_\_



\_\_\_\_\_

\_\_\_\_\_



\_\_\_\_\_

\_\_\_\_\_



\_\_\_\_\_

\_\_\_\_\_



\_\_\_\_\_

\_\_\_\_\_



\_\_\_\_\_

\_\_\_\_\_



\_\_\_\_\_

\_\_\_\_\_



\_\_\_\_\_

\_\_\_\_\_

